

# पूर्व उच्च प्राथमिक शिष्यवृत्ति परीक्षा (कक्षा 5 वीं), मे 2021

बैठक क्र.

संच

A

0 3 0 2

पेपर क्र. - II

माध्यम : हिन्दी

वेळ : 1:30 ते 3:00

पृष्ठ : 32

तृतीय भाषा व बुद्धिमत्ता चाचणी

एकूण गुण : 150

प्रश्नपत्र हल करने से पहले कृपया नीचे दिये गए निर्देशों को ध्यानपूर्वक पढ़ें :

- (1) इस प्रश्नपत्र के दो भाग हैं। जिसमें से भाग - I में तृतीय भाषा विषय से संबंधित 1 से 25 और भाग II में बुद्धिमत्ता चाचणी विषय से संबंधित 26 से 75 प्रश्न पूछे गए हैं। सभी 75 प्रश्न हल करना अनिवार्य है।
- (2) प्रत्येक प्रश्न 2 अंक के लिए है।
- (3) प्रश्नपत्र हल करने के लिए कुल 90 मिनट का समय दिया जाएगा।
- (4) उत्तर देने के लिए स्वतंत्र उत्तरपत्रिका दी जाएगी। प्रत्येक प्रश्न क्रमांक के सामने चार विकल्प के लिए क्रमानुसार दीर्घवृत्त दिए गए हैं। जिनमें से सही उत्तर - विकल्प के दीर्घवृत्त को नीचे दिए गए उदाहरणानुसार भरें।  
उदा. प्रश्न क्र. 6 का सही उत्तर विकल्प क्र. 2 है, तो आगे दिए अनुसार उत्तर भरें।  
प्रश्न क्र. 6  1  2  3  4
- (5) नीचे दिये गए उदाहरण के अनुसार अंकित किए गए उत्तर स्वीकार्य नहीं किए जायेंगे। इस प्रकार अंकित किए गए प्रश्न के उत्तर को 'शून्य' अंक दिए जायेंगे।  1  2  3  4
- (6) प्रत्येक प्रश्न के लिए एक से अधिक दीर्घवृत्त में उत्तर अंकित किये गए, चिन्हांकित किये गए उत्तर का मूल्यांकन नहीं किया जाएगा।
- (7) एक बार अंकित किए गए उत्तर दोबारा बदले नहीं जा सकते।
- (8) विकल्प के उत्तर अंकित करने के लिए केवल काले और नीले रंग के बॉलपेन का ही इस्तेमाल करें। पेन्सिल से अंकित उत्तर स्वीकार्य नहीं किए जायेंगे।
- (9) प्रश्नपत्र के प्रत्येक पृष्ठ के नीचे और अंतिम पृष्ठ पर कच्चे काम (Rough work) के लिए खाली जगह है, वहीं कच्चा काम (Rough work) करें।
- (10) परीक्षा की अवधि मर्यादित होने के कारण यदि किसी प्रश्न का उत्तर आपको नहीं पता हो तो आगे के प्रश्न हल करें। अंत में समय बचने पर रह गए प्रश्नों के लिए पुनः प्रयास करें।
- (11) किसी प्रश्न में त्रुटि/गलती परिलक्षित होने पर पर्यवेक्षक या परीक्षा केंद्र संचालक से विचार विमर्श ना करें।
- (12) प्रश्न में त्रुटि/गलती/इसके संबंध में निवेदन विद्यालय अथवा अभिभावकों द्वारा समूह शिक्षणाधिकारी या शिक्षणअधिकारी के पास लिखित रूप में न भेजकर संबंधित विद्यालय के लॉगिन से ऑनलाइन पद्धति से ही भेजें।
- (13) त्रुटि/गलती/इसके संबंध में निवेदन ऑनलाइन पद्धति से भेजने की अवधि परीक्षा परिषद के निर्देश स्थान से अंतरिम (अस्थायी) उत्तर सूची के प्रेषित होने से लेकर 10 (दस) दिन तक रहेगी।
- (14) टंकण दोष या अन्य कारण से प्रश्न गलत परिलक्षित होने पर विशेषज्ञ समिति के निर्णयानुसार योग्य कार्यवाही की जायेगी।
- (15) मूल माध्यम के साथ अंग्रेजी भाषा में भी प्रश्नपत्र दिया गया है। मूल माध्यम के संदिग्ध प्रश्नों के लिए अंग्रेजी प्रश्न देखें।

**Section - I**

**Instructions for Q. 01 to Q. 03**

**Read the passage carefully and choose the correct options:**

A red traffic light is a warning that means STOP. It is not safe to cross the road until the green signal lights up. Start walking when green signal is on.

In short, a red light is a warning to pay attention.

**01.** If Red : Stop then Green : ?

- (1) Pay                      (2) Safe                      (3) Walk                      (4) Warn

**02.** Find out the rhyming word from the passage for night.

- (1) eight                      (2) right                      (3) slight                      (4) light

**03.** Select the correct adjective from the given passage.

- (A) Red                      (B) Green

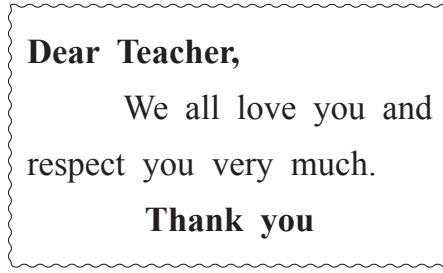
- (1) 'A' and 'B' correct                      (2) 'B' correct  
(3) 'A' correct                      (4) 'A' and 'B' incorrect

**04.** Select the set which has different sound

- (1) Camera, Castle, Cabbage, Cat  
(2) Hat, Handle, Hammer, Hand  
(3) Kitten, Kettle, Knife, Kingdom  
(4) Mat, Map, Man, Mango

**SPACE FOR ROUGH WORK**

05. Look at the greeting card. Read the message and choose the correct option.



- (1) Happy Independence Day                      (2) Happy Teacher's Day  
(3) Happy Mother's Day                         (4) Happy Diwali

06. Choose the mismatch pair from the given options.

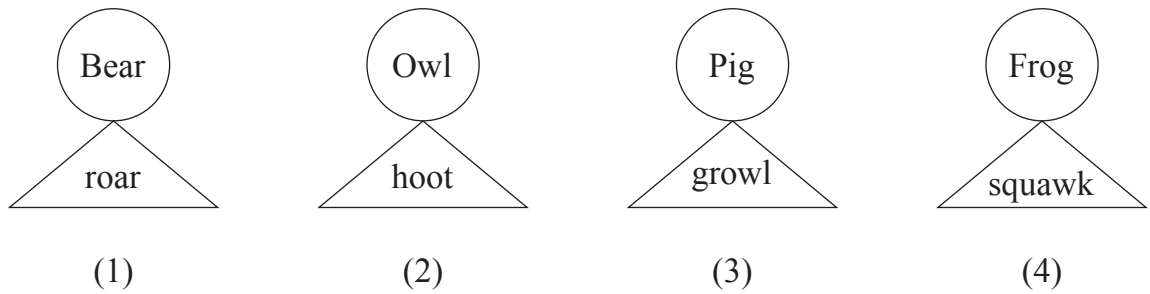
- (1) deer - deer                                      (2) student - students  
(3) mouse - mice                                 (4) ox - oxes

07. Select the correct option for the given word

Lift :

- (1) the wall      (2) the farm                      (3) the river                      (4) the box

08. Choose the correct pair from the given options.




**SPACE FOR ROUGH WORK**

09. Choose the correct ordinal number which comes after Eleven.

- (1) Tewfth (2) Twvlfth (3) Twelfth (4) Tweflth

10. Look at the picture and select the correct conversation which matches with the picture:



- (1) A : Please give us two full glasses of sugarcane juice.  
B : But Mamma, I want some ice in my juice.
- (2) A : Give me some tomatoes  
B : Where's your bag ?
- (3) A : Do you like roasted two corn-cobs?  
B : Oh, I love them
- (4) A : Have you tried these cakes?  
B : This is a new cake shop

11. Choose the correct opposite words for 'a' and 'b'.

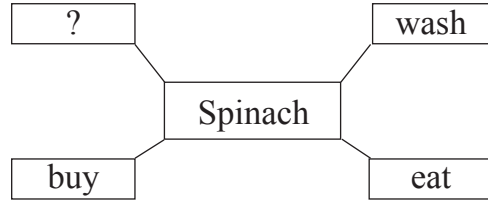
a	deep	×	?
b	ugly	×	?

- (1) Top, Cute (2) Bottom, Sweet  
(3) Shallow, Beautiful (4) Fountain, Cruel


**SPACE FOR ROUGH WORK**

12. Choose the correct option of the following statement which indicates the correct time 'Rita wakes up early in the morning'
- (1) 7 p.m. (2) 7 a.m. (3) 3 p.m. (4) 12 noon

13. Complete the box by choosing the correct action word for the given word.



- (1) lump (2) scribble (3) wobble (4) cook

14. The sign  indicates

- (1) stop (2) turn right (3) go straight (4) turn left

15. Rearrange the numbers and make meaningful words.

v a f t i u r o e  
1 2 3 4 5 6 7 8 9

- (1) 3 2 1 8 6 7 5 4 9 (2) 3 1 2 8 7 6 5 4 9  
(3) 3 2 7 1 8 6 5 9 4 (4) 3 2 1 7 6 8 5 4 9

16. Solve the riddle

'I use a spanner and  
a screw - driver.

Who am I?'

- (1) mechanic (2) potter (3) milkman (4) farmer

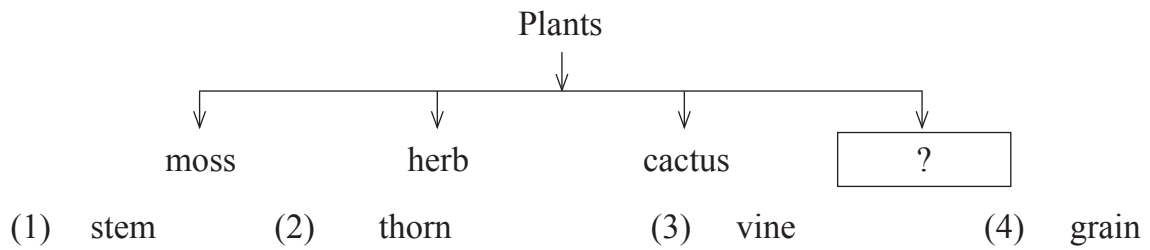
**SPACE FOR ROUGH WORK**

17. Choose the correct option for the given word : Shape  
(1) high (2) low (3) fast (4) circle


18. Choose the correct 'Motto' from the given options  
(1) We'll all be quiet together (2) Give me a story book  
(3) Protect all plants (4) Form groups of ten

19. Fill in the blank with the correct option.  
He has bought ..... electric iron.  
(1) the (2) an (3) no article (4) a

20. Look at the diagram and choose the correct option.



21. Look at the picture and select the correct expression






(1) scared (2) proud  
(3) shy (4) sleepy

**SPACE FOR ROUGH WORK**

22. Look at the advertisement and choose the correct option

### Sunny Biscuit Shop

Buy two cream Biscuit Packets!  
Get one packet of chocolate Biscuit free!

Price Starting from 10 Rs. for one packet.

Khari Biscuits, Cream Biscuits  
Chocolate Cream Biscuits  
Almond Biscuits

You can buy ..... packets of cream biscuits and get ..... packet of chocolate biscuits.

- (1) 1, 1                      (2) 1, 2                      (3) 2, 1                      (4) 2, 0

23. How many capital letters should be in the given sentence.

i am sopan bhosale

- (1) 2                      (2) 3                      (3) 4                      (4) 1

24. Choose the correct option of punctuation mark for underlined sentence.

A : What's your name

B : Tell me your name, please

C : Chandrashekhar, You can call me Chandu

- (1) ?                      (2) .                      (3) ;                      (4) !

25. Choose the sentence which has correct punctuation marks.

(1) Oh no! what shall I do now?                      (2) Oh, no? what shall I do now?

(3) Oh, no! What shall I do now.                      (4) Oh, no! what shall I do now?

**SPACE FOR ROUGH WORK**

A B C D E | F G H I J | K L M N O | P Q R S T | U V W X Y

**SECTION - II**

**INTELLIGENCE TEST**

26. In the word 'EXTRAORDINARY', which is the letter at the 4th place to the right of the letter 'O'?

- (1) X                      (2) A                      (3) T                      (4) N

**Q. 27 to Q. 31 Direction :**

Find the odd term.

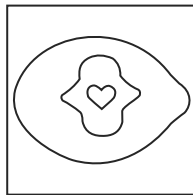
27. (1) Moon                      (2) Mars                      (3) Jupiter                      (4) Saturn

28. (1) 9                      (2) 65                      (3) 26                      (4) 126

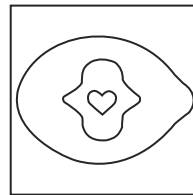
29. (1) 386                      (2) 264                      (3) 275                      (4) 495

30. (1) Millenium                      (2) Second                      (3) Century                      (4) Light year

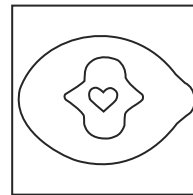
31.



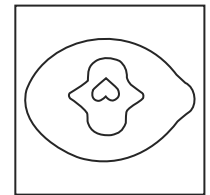
(1)



(2)



(3)



(4)

32. In the letter series "V, M, E, T, R, L, M, E, S, O, L, M, E, T, S, Q, V, M, E, O, L", how many times M is preceded by E and is immediately followed by T?

- (1) 3                      (2) 2                      (3) 4                      (4) 1

**SPACE FOR ROUGH WORK**



## भाग - II

## बुद्धिमत्ता चाचणी

26. 'पतितपावन' इस शब्द के 'त' अक्षर के दाहिनी तरफ द्वितीय क्रम पर कौन सा अक्षर आता है?

- (1) प (2) ति (3) न (4) व

प्र. 27 से 31 के लिए सूचना:

समूह में असंगत पद पहचानो:


27. (1) चन्द्रमा (2) मंगल (3) गुरु (4) शनि

28. (1) 9 (2) 65 (3) 26 (4) 126

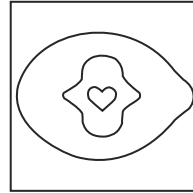
29. (1) 386 (2) 264 (3) 275 (4) 495

30. (1) सहस्रक (2) सेकंड (3) शतक (4) काष्ठवलय

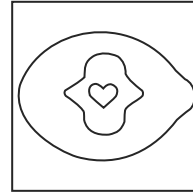
31.



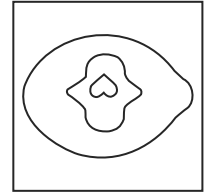
(1)



(2)



(3)



(4)

32. 'श्रीमंत, मृणमूर्ती, कर्ताधर्ता, ऋतू, गृह, समर्पण, प्रवास' इन शब्द समूहों में 'संयुक्त अक्षर (जोडाक्षर)' कुल कितने अक्षर हैं।

- (1) 7 (2) 6 (3) 9 (4) 5

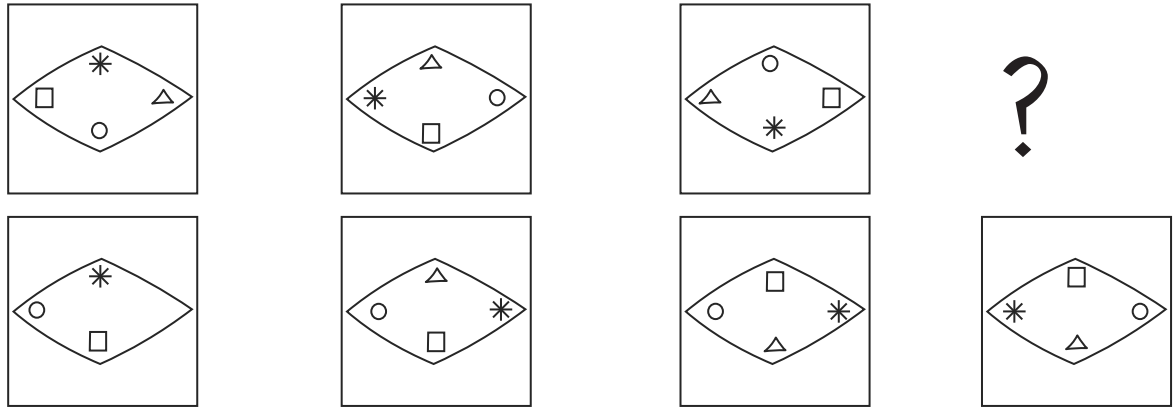
SPACE FOR ROUGH WORK

33. Find the correct alternative to replace the question mark in the series given below.

4, 7, 13, 25, 49, ?

- (1) 59                      (2) 95                      (3) 97                      (4) 69

34. In the given figures there is a particular sequence. Identify the sequence and find the figure which will replace the question mark.



(1)

(2)

(3)

(4)

35.

**6, 8, 7, 3, 5, 9, 4, 2, 1**

In the number series by how much is the sum of prime numbers is more or less than the sum of composite numbers?

- (1) More by 10    (2) Less by 10    (3) Less by 9    (4) More by 9

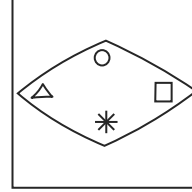
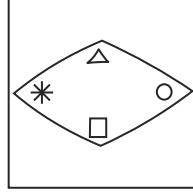
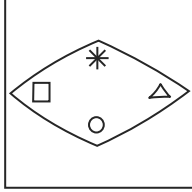
**SPACE FOR ROUGH WORK**

33. निम्न संख्या श्रेणी में प्रश्न चिन्ह का योग्य विकल्प चुनिए।

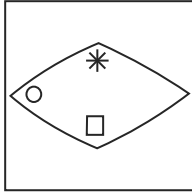
4, 7, 13, 25, 49, ?

- (1) 59                      (2) 95                      (3) 97                      (4) 69

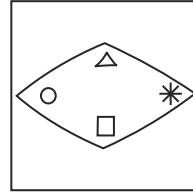
34. निम्न आकृतियों में विशिष्ट प्रकार का क्रम है, इस क्रम को पहचान कर प्रश्नचिन्ह का विकल्प ढूँढें।



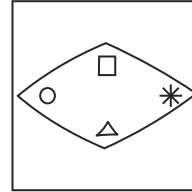
?



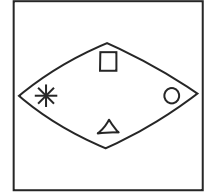
(1)



(2)



(3)



(4)

35.

**6, 8, 7, 3, 5, 9, 4, 2, 1**

उपरोक्त संख्या श्रेणी में मूल संख्याओं का कुल योगफल संयुक्त संख्याओं के कुल योगफल से कितना कम या अधिक है?

- (1) 10 से अधिक      (2) 10 से कम      (3) 9 से कम      (4) 9 से अधिक

SPACE FOR ROUGH WORK

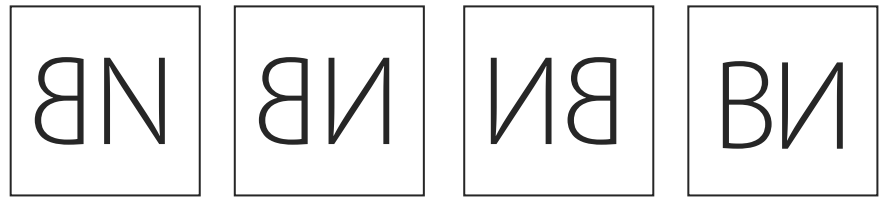
**Q. 36 and Q. 37 : Direction :**

Find out the mirror image of each of the following question figure from the alternatives given.

36. Question Figure



Answer Figure




(1)

(2)

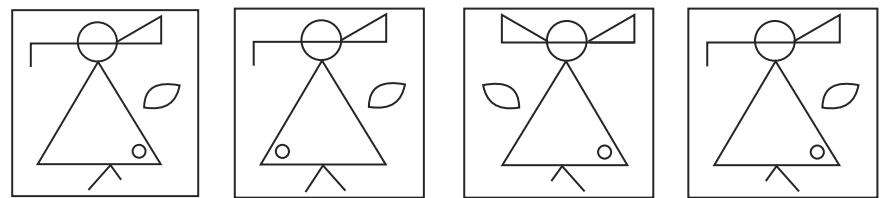
(3)

(4)

37. Question Figure



Answer Figure



(1)

(2)

(3)

(4)

38. In the given alphabetical series, which group of letters will occur at the place of question mark?

? MN ? NMM ? MNM ? N ? N

(1) MMNMM

(2) MNMNM

(3) MMNMN

(4) MNMMM

**SPACE FOR ROUGH WORK**

प्र. 36 तथा 37 के लिए सूचना:

उपरोक्त प्रश्नों के प्रश्नाकृति की दर्पण में प्रतिमा कैसे दिखाई देती है? यह उत्तराकृति में से निश्चित कीजिए।

36. प्रश्नाकृति

उत्तर आकृति



(1)


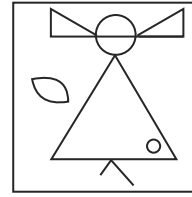
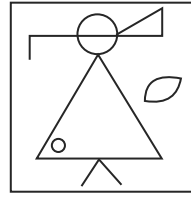
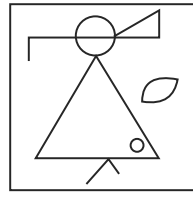

(2)

(3)

(4)

37. प्रश्नाकृति

उत्तर आकृति



(1)

(2)

(3)

(4)

38. निम्नलिखित चिन्ह श्रेणी में प्रश्नचिन्ह का स्थान लेने वाले समूह को पहचानिए।

? MN ? NMM ? MNM ? N ? N

(1) MMNMM

(2) MNMNM

(3) MMNMN

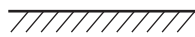
(4) MNMMM

SPACE FOR ROUGH WORK

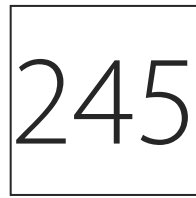
**Q. 39 and Q. 40 : Direction :**

In each question a problem figure is held vertical above water surface. Identify its water reflection and select the correct alternative.

39. Question Figure



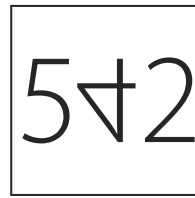
Answer Figure



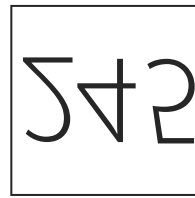
(1)



(2)

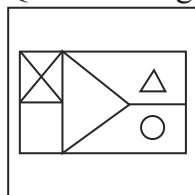


(3)

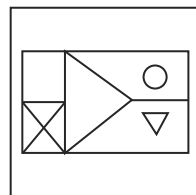


(4)

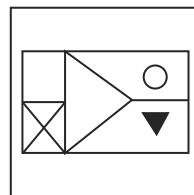
40. Question Figure



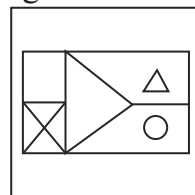
Answer Figure



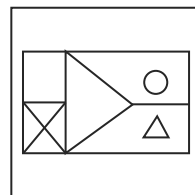
(1)



(2)



(3)



(4)

41. Find the correct alternative to replace the question mark in the given number series.

13, 15, 19, 27, ?

(1) 35

(2) 27

(3) 32

(4) 30

42. **ABCDE FGHIJ KLMNO PQRST UVWXY**

In the given alphabetical series, write the left adjacent letter, of the letter which is at seventh place from the right end?

(1) E

(2) T

(3) R


(4) Y

**SPACE FOR ROUGH WORK**

प्र. 39 तथा 40 के लिए सूचना:

निम्न प्रश्नाकृति को पानी के सामने रखने पर पानी में उसका प्रतिबिंब कैसा दिखेगा? उत्तराकृति में पहचानिए।

39. प्रश्नाकृति



उत्तर आकृति



(1)



(2)

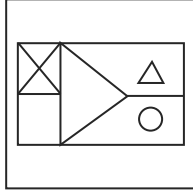


(3)

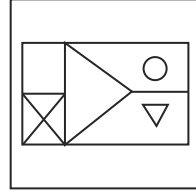


(4)

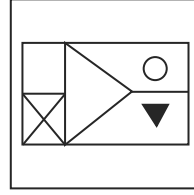
40. प्रश्नाकृति



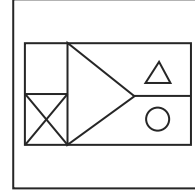
उत्तर आकृति



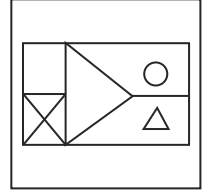
(1)



(2)



(3)



(4)

41. निम्न संख्या श्रेणी में प्रश्नचिन्ह का स्थान लेने वाले विकल्प को चुनिए।

13, 15, 19, 27, ?

(1) 35

(2) 27

(3) 32

(4) 30

42.

ABCDE FGHIJ KLMNO PQRST UVWXY

उपरोक्त अक्षर मालिका के दाहिनी ओर सांतवें अक्षर के बाँयी ओर का संलग्न अक्षर कौन सा होगा?

(1) E

(2) T

(3) R

(4) Y

SPACE FOR ROUGH WORK

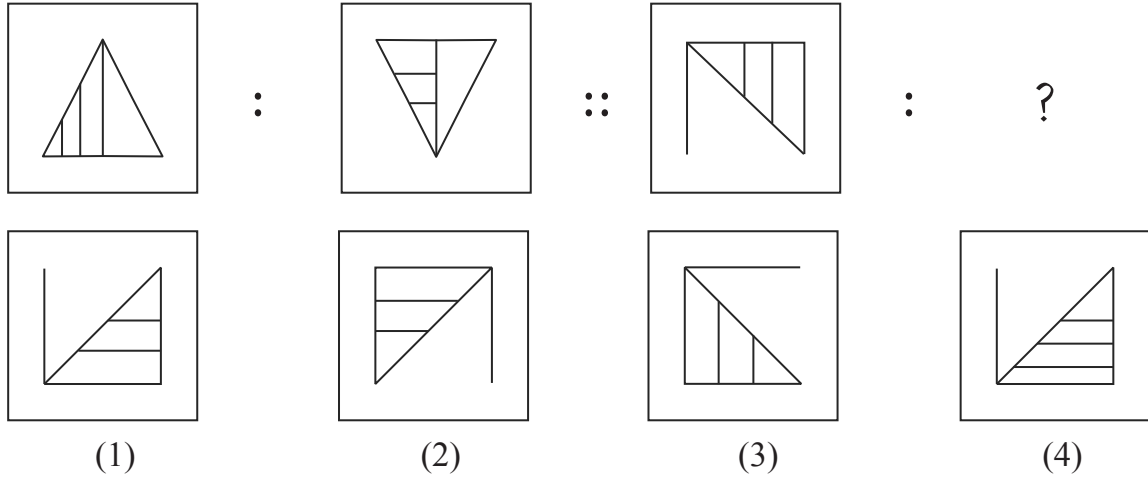
**Q. 43 to Q. 47 : Direction :**

In the following questions, first pair has same relationship between first two terms. The same relation holds true for the second pair. Identify the relation and select the correct alternative.

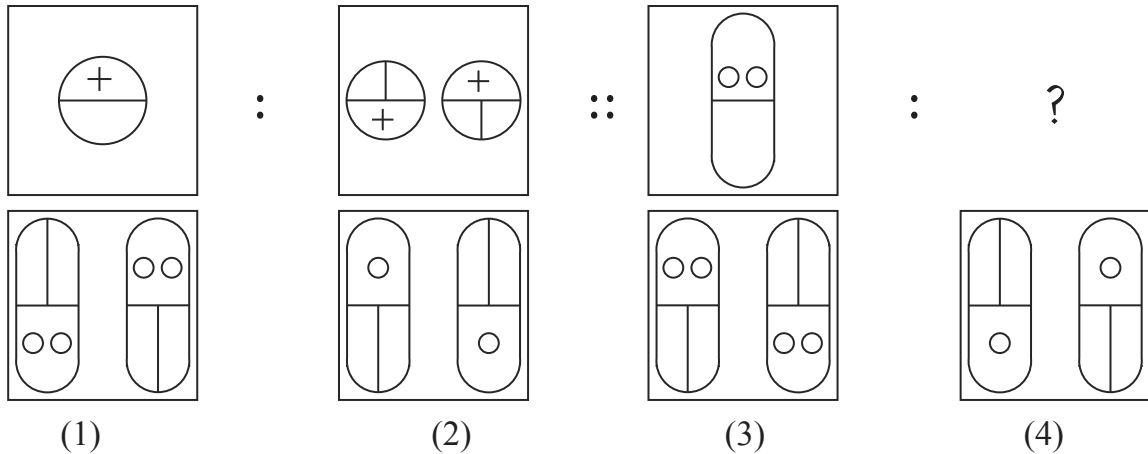
43. Bhakri : Jowar :: Butter : ?

- |               |               |
|---------------|---------------|
| (1) Sugarcane | (2) Raw Mango |
| (3) Milk      | (4) Bajra     |

44.



45.



**SPACE FOR ROUGH WORK**



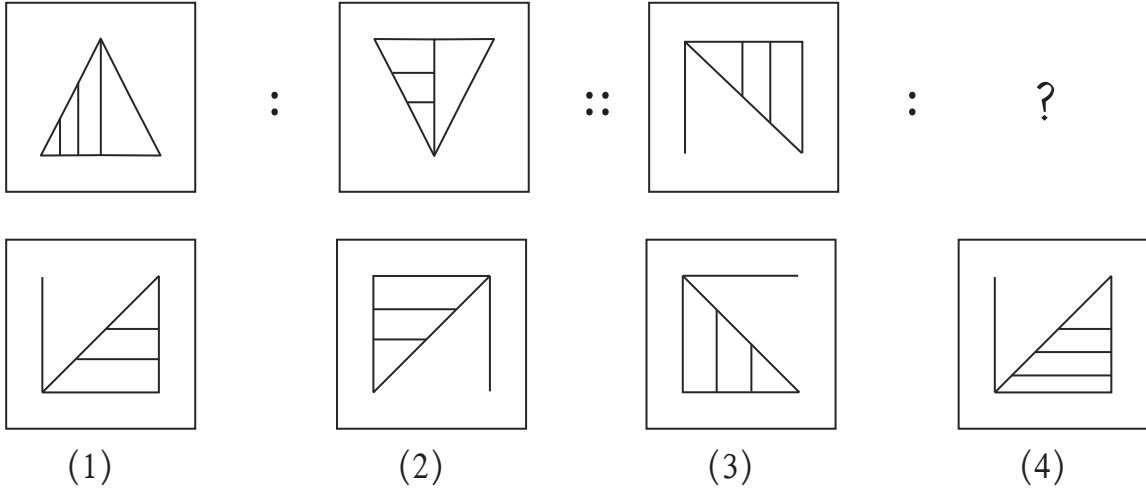
प्र. 43 से 47 के लिए सूचना:

निम्न प्रश्नों में प्रथम तथा द्वितीय पदों में जैसा संबंध है, वही संबंध तीसरे और चौथे पदों में है, वह संबंध पहचान कर प्रश्न चिन्ह का योग्य विकल्प चुनिए।

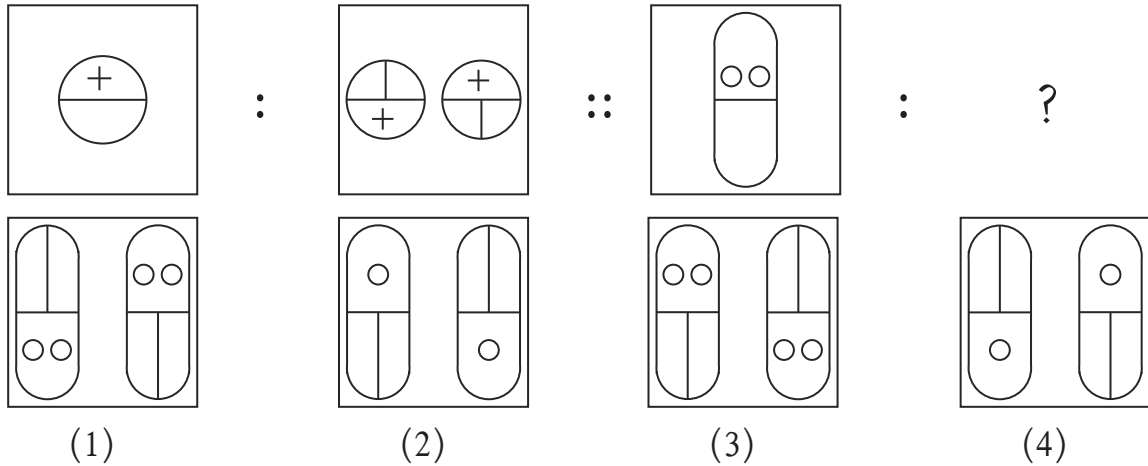
43. रोटी : ज्वार :: मखखन : ?

- (1) गन्ना                      (2) आम                      (3) दूध                      (4) बाजरा

44.



45.



**SPACE FOR ROUGH WORK**


A	B	C	D	E	F	G	H	I	J	K	L	M	N	O	P	Q	R	S	T	U	V	W	X	Y
---	---	---	---	---	---	---	---	---	---	---	---	---	---	---	---	---	---	---	---	---	---	---	---	---

46.  $4 : 18 :: 6 :: ?$   
 (1) 19 (2) 22 (3) 18 (4) 27
47.  $26 : 38 :: 48 : ?$   
 (1) 52 (2) 80 (3) 48 (4) 64
48. Find the odd term in the given series.  
 3, 4, 6, 10, 22, 34  
 (1) 6 (2) 10 (3) 22 (4) 34
49. Swati is eight years older than Kranti. The sum of the present ages of both the girls is 44. Find the age of Swati eight years before?  
 (1) 52 (2) 36 (3) 34 (4) 18
50. If Rat is called Cat, Cat is called Donkey, Donkey is called Dog, Dog is called Deer, Deer is called Human, Human is called Rabbit, Rabbit is called Calf then who is the most intelligent animal among them?  
 (1) Human (2) Calf (3) Rabbit (4) Dog


**Q. 51 and Q. 52 : Direction :**

Find out the figure which exactly matches with the question figure from the four alternative figures given below.


51. Question Figure




Answer Figure




(1)



(2)



(3)



(4)


**SPACE FOR ROUGH WORK**

A	B	C	D	E	F	G	H	I	J	K	L	M	N	O	P	Q	R	S	T	U	V	W	X	Y
---	---	---	---	---	---	---	---	---	---	---	---	---	---	---	---	---	---	---	---	---	---	---	---	---


46. 4 : 18 :: 6 : ?  
 (1) 19 (2) 22 (3) 18 (4) 27
47. 26 : 38 :: 48 : ?  
 (1) 52 (2) 80 (3) 48 (4) 64
48. निम्न संख्या मालिका में गलत पद पहचानिए।  
 3, 4, 6, 10, 22, 34  
 (1) 6 (2) 10 (3) 22 (4) 34
49. स्वाती क्रांती से 8 वर्ष बड़ी है, उन दोनों के वर्तमान आयु का योगफल 44 वर्ष है, तो स्वाती की आठ वर्ष पूर्व आयु कितनी होगी?  
 (1) 52 (2) 36 (3) 34 (4) 18
50. चूहे को बिल्ली पुकारे, बिल्ली को गधा, गधे को कुत्ता, कुत्ते को हिरण, हिरण को मनुष्य, मनुष्य को खरगोश, खरगोश को बछड़ा पुकारे तो सबसे बुद्धिमान प्राणी कौन सा होगा?  
 (1) मनुष्य (2) बछड़ा (3) खरगोश (4) कुत्ता

प्र. 51 तथा 52 के लिए सूचना:-


निम्न प्रश्नाकृति से हूबहू मिलनेवाली आकृति विकल्प में से चुनिए।

51. प्रश्नाकृति उत्तर आकृति
- 


|




(1)



(2)



(3)

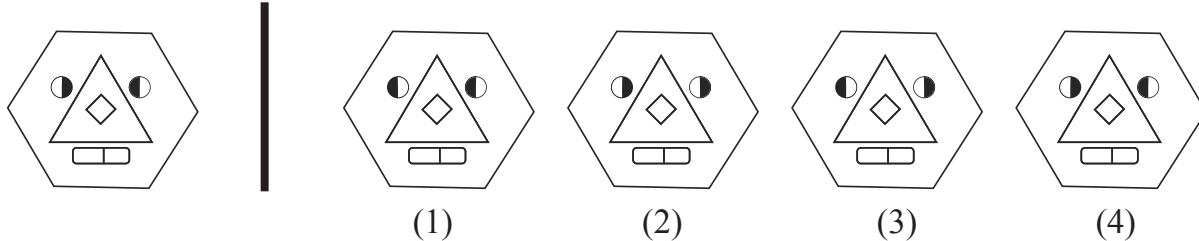


(4)

SPACE FOR ROUGH WORK

52. Question Figure

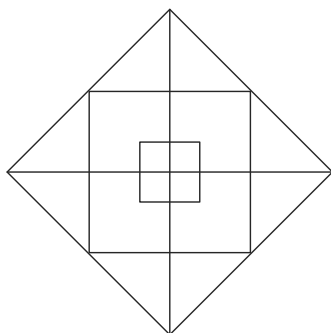
Answer Figure



53. In a shop, there are few sacks of Wheat, Jowar, Bajra, Tur, Sugar. The number of sacks of Sugar's is twice the total of all other sacks. All other sacks of grains are equal i.e. each of 12. Find out the total number of sacks in the shop?

- |        |         |
|--------|---------|
| (1) 60 | (2) 144 |
| (3) 96 | (4) 180 |

54.



Find out the total numbers of squares present in the given figure.

- |        |
|--------|
| (1) 8  |
| (2) 9  |
| (3) 11 |
| (4) 12 |


**Q. 55 to Q. 59 : Direction :**

In each of the following questions three words are given with some common relation. So their group is formed. Select a word from the alternatives given which has the same common feature of the given group.


55. Sugar, Salt, Washing soda, \_\_\_\_\_
- |                 |                     |
|-----------------|---------------------|
| (1) Alum powder | (2) Turmeric powder |
| (3) Oil         | (4) Sand            |

**SPACE FOR ROUGH WORK**


52. प्रश्नाकृति




उत्तर आकृति




(1)



(2)



(3)



(4)

53. किसी दुकान में गेहूँ, ज्वार, बाजरा, अरहर तथा शक्कर कि कुछ बोरीयाँ हैं। इनमें शक्कर की बोरीयाँ अन्य अनाज के कुल बोरीयों की अपेक्षा दुगुने से अधिक हैं। उसी प्रकार शक्कर के अलावा अन्य सभी बोरीयाँ समान अर्थात् 12 है, तो दुकान में अनाज की कुल बोरीयों की संख्या कितनी होगी?

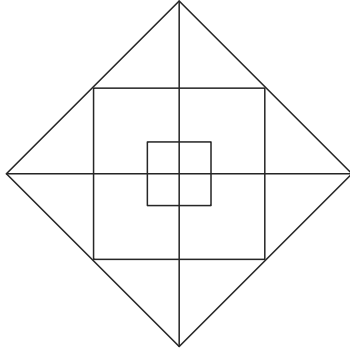
(1) 60

(2) 144

(3) 96

(4) 180

54.



निम्न आकृति में कुल वर्गों की संख्या बताओं।

(1) 8

(2) 9

(3) 11

(4) 12

प्र. 55 से 59 के लिए सूचना:

प्रश्नों में तीन पद दिए हैं, उनकी एक विशेषता है। जिससे उनका एक समूह तैयार होता है, इस समूह के संगत पद को विकल्प में से पहचानो।

55. शक्कर, नमक, धोने का सोडा, \_\_\_\_\_

(1) फिटकरी

(2) हल्दी

(3) तेल

(4) रेत

SPACE FOR ROUGH WORK



A	B	C	D	E	F	G	H	I	J	K	L	M	N	O	P	Q	R	S	T	U	V	W	X	Y
---	---	---	---	---	---	---	---	---	---	---	---	---	---	---	---	---	---	---	---	---	---	---	---	---

56. Onion, Garlic, Potato, \_\_\_\_\_


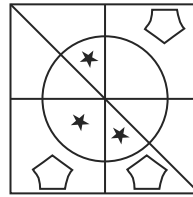
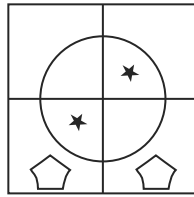
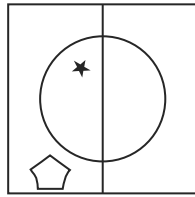
(1) Sweet potato

(2) Radish

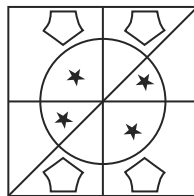
(3) Beet root

(4) Ginger


57.




(1)



(2)

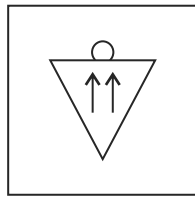
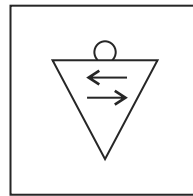
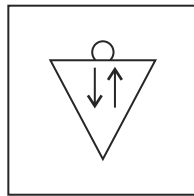
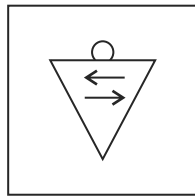


(3)

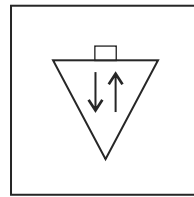


(4)

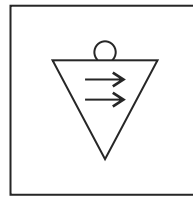
58.



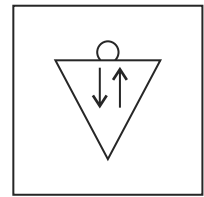
(1)



(2)



(3)



(4)


**SPACE FOR ROUGH WORK**



A	B	C	D	E	F	G	H	I	J	K	L	M	N	O	P	Q	R	S	T	U	V	W	X	Y
---	---	---	---	---	---	---	---	---	---	---	---	---	---	---	---	---	---	---	---	---	---	---	---	---

59. 3412, 4520, 2510, \_\_\_\_\_  
 (1) 1234                      (2) 2020                      (3) 5402                      (4) 4416

60. Find out the number of triangles in the given figure.



- (1) 14  
 (2) 11  
 (3) 10  
 (4) 13

61. John and Mois are standing in a row. John is at 17<sup>th</sup> place from the beginning and 8<sup>th</sup> from back. On the other hand Mois is 6<sup>th</sup> from the beginning then what will be his position from back?  
 (1) 24                      (2) 19                      (3) 18                      (4) 17

62. Rashid is standing facing North East. He turned to his left 3 times in right angles. Which of the following directions will be there to his right?  
 (1) South West                      (2) North West  
 (3) North                      (4) North East

**Q. 63 and Q. 64 : Direction :**

In the code language few numbers are denoted using symbols. Study them and find the correct alternative.

Numbers	0	1	2	3	4	5	6	7	8	9
Symbols	+	★	○	□	●	▽	×		@	△

63. △ Subtract □ Multiply + Add ×  
 (1) 12                      (2) 15                      (3) 6                      (4) 9


**SPACE FOR ROUGH WORK**



A	B	C	D	E	F	G	H	I	J	K	L	M	N	O	P	Q	R	S	T	U	V	W	X	Y
---	---	---	---	---	---	---	---	---	---	---	---	---	---	---	---	---	---	---	---	---	---	---	---	---

59. 3412, 4520, 2510, \_\_\_\_\_  
 (1) 1234 (2) 2020 (3) 5402 (4) 4416

60.



निम्न आकृति में त्रिभुजों की संख्या बताओ।

- (1) 14  
 (2) 11  
 (3) 10  
 (4) 13

61. जॉन तथा मोईस एक पंक्ति में खड़े हैं। जॉन आगे से 17 वें तथा पीछे से 8 वें क्रमांक पर हैं। मोईस उसी पंक्ति में आगे से 6 वें क्रमांक पर हो, तो मोईस पीछे से कितने क्रमांक पर होगा?  
 (1) 24 (2) 19 (3) 18 (4) 17

62. रशीद ईशान्य दिशा की ओर मुख करके खड़ा है। वह समकोण में बाँयी तरफ तीन बार मुड़ता है तो उसके दाहिने हाथ की ओर कौन सी दिशा होगी?  
 (1) नैर्ऋत्य (2) वायव्य (3) उत्तर (4) ईशान्य

प्र. 63 तथा 64 के लिए सूचना:

किसी सांकेतिक भाषा के अंको के लिए कुछ चिन्ह दिए गए हैं। उनका विचार करते हुए योग्य विकल्प चुनिए।

अंक	0	1	2	3	4	5	6	7	8	9
चिन्ह	+	★	○	□	●	▽	×		@	△

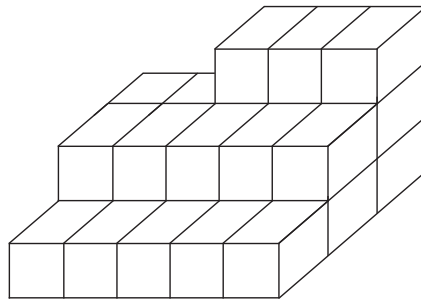
63.  $\Delta$  घटाव  $\square$  गुणा + जोड़  $\times$   
 (1) 12 (2) 15 (3) 6 (4) 9

**SPACE FOR ROUGH WORK**

A	B	C	D	E	F	G	H	I	J	K	L	M	N	O	P	Q	R	S	T	U	V	W	X	Y
---	---	---	---	---	---	---	---	---	---	---	---	---	---	---	---	---	---	---	---	---	---	---	---	---

64.  $\nabla$  Add || Subtract  $\Delta$  Divide  $\square$
- (1) 9                      (2) 8                      (3) 2                      (4) 6

65. In the given figure, how many cubical boxes are there?

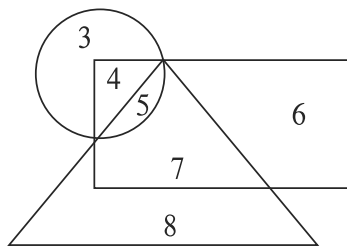


- (1) 13                      (2) 28                      (3) 18                      (4) 23

66. In the year 2017. Republic day was on Wednesday then in the same year Dr. Babasaheb Ambedkar Jayanti was on which day?

- (1) Saturday                      (2) Sunday  
(3) Thursday                      (4) Friday

67. Observe the venn diagram carefully and choose the correct answer from the alternatives for the questions given below.



What will be the difference between the sum of numbers that are only in rectangle and triangle to that of the numbers only in circle and rectangle?

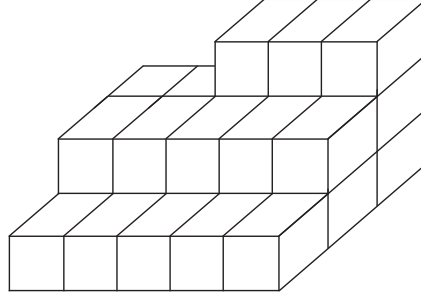
- (1) 23                      (2) 5                      (3) 6                      (4) 2

**SPACE FOR ROUGH WORK**

A	B	C	D	E	F	G	H	I	J	K	L	M	N	O	P	Q	R	S	T	U	V	W	X	Y
---	---	---	---	---	---	---	---	---	---	---	---	---	---	---	---	---	---	---	---	---	---	---	---	---

64.  $\nabla$  जोड़  $\parallel$  घटाव  $\Delta$  भाग  $\square$   
 (1) 9 (2) 8 (3) 2 (4) 6

65. निम्न दिए गए आकृति में कुल कितने घनाकार गुटके हैं?

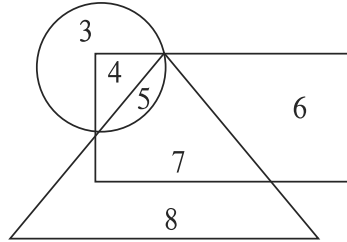


- (1) 13 (2) 28 (3) 18 (4) 23

66. इ. स. 2017 का गणतंत्र दिवस बुधवार को आता है, तो इसी वर्ष डॉ. बाबासाहेब आंबेडकर जयंती किस दिन आयेगी?

- (1) शनिवार (2) रविवार (3) गुरुवार (4) शुक्रवार

67. उपरोक्त वेन आकृति ध्यान से देखें तथा निम्न प्रश्नों के उत्तर विकल्प में से चुनिए।

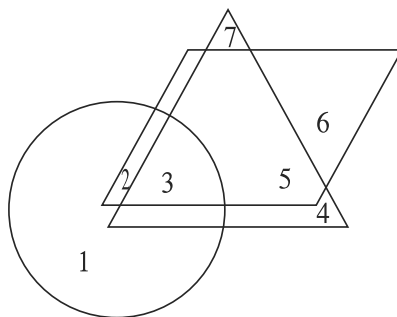


प्रश्न: केवल चतुर्भुज, केवल त्रिभुज में आने वाले अंक तथा केवल वृत्त तथा चतुर्भुज में आने वाले अंक का योगफल का अन्तर कितना होगा?

- (1) 23 (2) 5 (3) 6 (4) 2

**SPACE FOR ROUGH WORK**

68. The given figure shows the number of musicians in triangle, singers in rectangle and actors in circle. Observe the figure and answer the questions.



Find the number of people who are singers as well as musicians and actors?

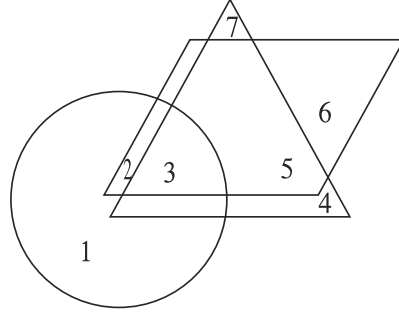
- (1) 3                      (2) 4                      (3) 5                      (4) 2
69. 1<sup>st</sup> February 2016 was Monday. What was the day on 1<sup>st</sup> February 2010?  
 (1) Monday      (2) Tuesday      (3) Thursday      (4) Friday
70. Select the number to replace the question mark.

4	14	49
9	18	36
16	?	25

- (1) 18                      (2) 15                      (3) 30                      (4) 20
71. In a code language CAP = 341, PAN = 417, RAN = 197 is written like this. In the same language how will be the word CAR written?  
 (1) 917                      (2) 391                      (3) 471                      (4) 734

**SPACE FOR ROUGH WORK**

68. निम्न वेन आकृति में त्रिभुज संगीतकार, चतुर्भुज गायक, वृत्त अभिनेता की संख्या को दर्शाते हैं, इनका निरीक्षण करके निम्न प्रश्नों के उत्तर दीजिए।



प्रश्न - संगीतकार, गायक तथा अभिनेता तीनों गुणों से सम्पन्न व्यक्तियों की संख्या बताइये।

- (1) 3                      (2) 4                      (3) 5                      (4) 2

69. 1 फरवरी 2016 के दिन सोमवार था, तो 1 फरवरी 2010 के दिन कौन-सा वार होगा?

- (1) सोमवार              (2) मंगलवार              (3) गुरुवार              (4) शुक्रवार

70. प्रश्नचिन्ह के लिए योग्य संख्या का विकल्प चुनिए।

4	14	49
9	18	36
16	?	25

- (1) 18                      (2) 15                      (3) 30                      (4) 20

71. किसी सांकेतिक भाषा में मदन = 417, सदन = 197, वमन = 341 लिखते हो, तो उसी भाषा में 'वसन' शब्द को कैसे लिखा जाता है?

- (1) 917                      (2) 391                      (3) 471                      (4) 734

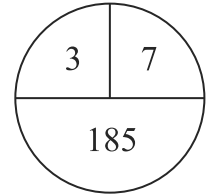
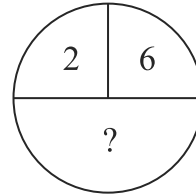
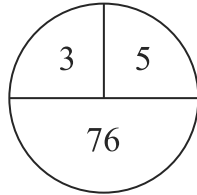
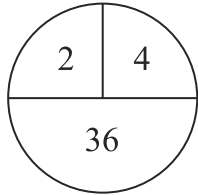
**SPACE FOR ROUGH WORK**

A	B	C	D	E	F	G	H	I	J	K	L	M	N	O	P	Q	R	S	T	U	V	W	X	Y
---	---	---	---	---	---	---	---	---	---	---	---	---	---	---	---	---	---	---	---	---	---	---	---	---

72. In a code language 246 is written as 82448. How will 579 be written in the same code language?

- (1) 305690      (2) 356399      (3) 355699      (4) 356345

73. Select the correct alternative to replace question mark.



- (1) 64      (2) 152      (3) 224      (4) 112

74. Grampanchayat has appealed the local people to contribute in the 'Jalyukta Shivaar' scheme. In this situation which action will be appropriate for Atharva?

- (1) Atharva will plan for an outing with family.  
 (2) Atharva will understand the importance of the scheme and will happily contribute.  
 (3) Atharva will tell people about the drawbacks of the scheme.  
 (4) Atharva will give excuse for an important work and will stay at home.

75. While going to school you see a magic show going on. Your friend Subhash insists you to see that. What will you do?

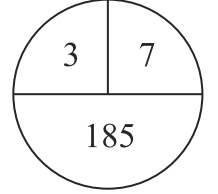
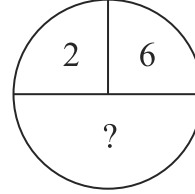
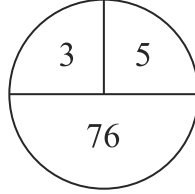
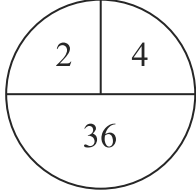
- (1) Leaving Subhash there, you will go to school.  
 (2) Take along Subhash to school.  
 (3) Tell Subhash the importance of studies and ask him to control the temptation for magic show.  
 (4) Complain to his parents that instead of going to school he keeps watching magic show.

**SPACE FOR ROUGH WORK**

A	B	C	D	E	F	G	H	I	J	K	L	M	N	O	P	Q	R	S	T	U	V	W	X	Y
---	---	---	---	---	---	---	---	---	---	---	---	---	---	---	---	---	---	---	---	---	---	---	---	---

72. किसी सांकेतिक भाषा में 246 यह संख्या 82448 लिखते हो, तो उसी भाषा में 579 यह संख्या कैसे लिखी जायेगी?
- (1) 305690      (2) 356399      (3) 355699      (4) 356345

73. दिए गए आकृति में प्रश्नचिन्ह के स्थान पर आने वाली संख्या का योग्य विकल्प चुनिए।



- (1) 64      (2) 152      (3) 224      (4) 112

74. 'जलयुक्त शिवार' इस कार्यक्रम के लिए ग्रामपंचायत में नागरिकों को श्रमदान के लिए आव्हान किया। इस अवसर पर अथर्व कौन सी उपयुक्त कृति करता है?

- (1) अथर्व परिवार के साथ दूसरे गांव भ्रमण के लिए जाता है।  
(2) अथर्व श्रमदान के महत्व को समझकर सहर्ष श्रमदान में सहभागी होता है।  
(3) 'जलयुक्त शिवार' योजना की त्रुटियाँ लोगों को बतलाता है।  
(4) 'जरूरी काम है' यह कहकर घर बैठना पसंद करता है।

75. विद्यालय जाते समय मार्ग में 'जादू का खेल' चल रहा है, आपका मित्र सुभाष आपको इसे देखने के लिए आग्रह करता है, ऐसे अवसर पर आप क्या करेंगे?

- (1) सुभाष को अकेला वहीं छोड़ कर विद्यालय जाते है।  
(2) सुभाष को खींचकर विद्यालय लेकर जायेंगे।  
(3) सुभाष को पढाई का महत्व समझाकर 'जादू के खेल' के आकर्षण से परावृत्त करेंगे।  
(4) सुभाष के घर जा कर, "वह विद्यालय न जाकर जादू देख रहा है" ऐसी शिकायत पालक से करेंगे।

**SPACE FOR ROUGH WORK**

SPACE FOR ROUGH WORK